

Fiche de compétences 03 : Ordre

Nom : Prénom : Classe :

SOCLE COMMUN

1 Complète avec l'entier qui suit ou celui qui précède : (4 points)

a. $4,2 < \dots$

b. $\dots < 6,8$

c. $\dots > 10,01$

d. $13,1 > \dots$

2 Complète avec deux entiers consécutifs : (4 points)

a. $\dots < 6,2 < \dots$

b. $\dots < 1\,999,6 < \dots$

3 Complète avec $<$, $>$ ou $=$: (3 points)

a. $8,7 \dots 13,5$

b. $13,21 \dots 13,210$

c. $5,8 \dots 5,08$

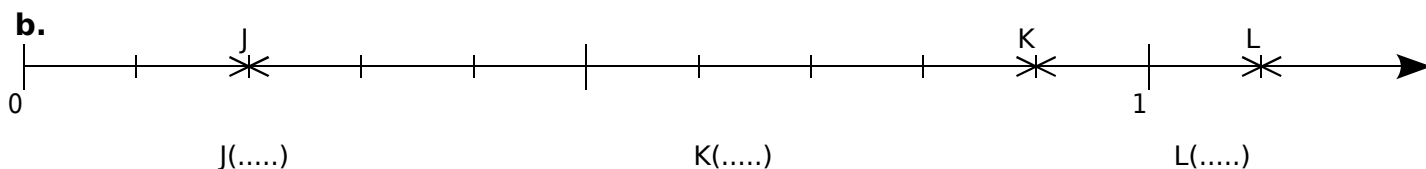
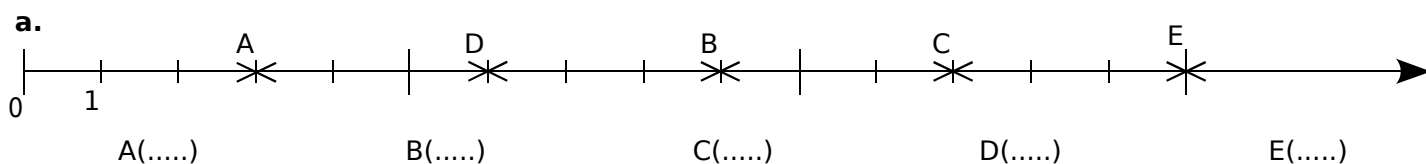
4 Range dans l'ordre croissant : (2 points)

705 ; 789 ; 850 ; 712 ; 730 ; 825 ; 790

5 Range dans l'ordre décroissant : (1 points)

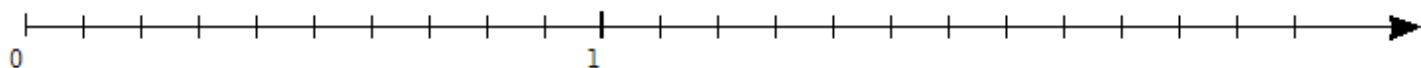
0,5 ; 0,35 ; 0,16 ; 0,02 ; 0,56 ; 0,83

6 Donne l'abscisse des points placés sur les axes gradués ci-dessous : (8 points)



7 Place sur l'axe gradué ci-dessous les points d'abscisse : (3 points)

A(0,3) ; B(1,4) ; C(2,1) ;



Fiche de compétences 03 : Ordre

Nom : **Prénom :** **Classe :**

APTITUDES

8 Un enseignant de CM1 organise une évaluation d'athlétisme. Pour le saut en longueur, il attribue une note en fonction de la performance. Le barème utilisé est le suivant : (6 points)

Points	1	2	3	4	5	6	7	8	9	10
Saut (m)	Moins de 1,50	1,50 a	1,81 a	2,11 a	2,41 a	2,71 a	3,01 a	3,31 a	3,61 a	3,91 et plus
		1,80	2,10	2,40	2,70	3,00	3,30	3,60	3,90	

Six élèves ont noté leur performance :

	Julie	Hubert	Marc	Alice	Hélène	Karim
Saut (m)	3,23	2,83	3,97	2,48	2,5	3,53

Attribue la note qu'ils ont eue à chaque élève :

Julie : Hubert : Marc :
 Alice : Hélène : Karim :

9 Les nombres d'habitants de quelques pays ont été écrits en millions d'habitants : (9 points)

Allemagne	83	Italie	58
Belgique	10	Pays-Bas	16
Espagne	41	Royaume-Uni	63
France	60	Suède	9

Trace et place le nombre d'habitants de chaque pays sur un axe gradué.

10 Intercala un nombre décimal dans chacun des cas suivants : (2 points)

4,6 < < 4,8 3,1 < < 3,12 0,01 < < 0,02 77 < < 77,1

11 Complète : (8 points)

	29,7	3,278	100,92	0,501
troncature à l'unité				
arrondi à l'unité				

Bilan du socle commun	/ 25 *	%	
Socle obtenu : (oui si * \geq 20/25)	Oui	Non	
Bilan des aptitudes	/ 25		
Bilan de la compétence	/ 50	%	/20

Fiche de compétences 03 : Ordre

Nom : **Prénom :** **Classe :**

Compétence :

- Comparer deux nombres entiers ou décimaux, ranger une liste de nombres
- Encadrer un nombre, intercaler un nombre entre deux autres
- Placer un nombre sur une demi-droite graduée.
- Lire l'abscisse d'un point ou en donner un encadrement.

Commentaires :